

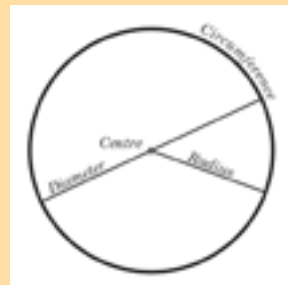
ROTHLÓIR TUAR CEATHA

MATA: Snáithí agus Aonaid Snátha

Uimhir:	<i>oibriúcháí</i>
Cruth agus Spás:	<i>Cruthanna 2D, Linte agus Uillinneacha</i>
Toisí:	<i>Fad, Achar, Tomhas agus tógáil uillinneacha i gcéimeanna</i>
Sonraí:	<i>Sonraí a thairfeadh i dtáblaí agus i gcairteacha</i>

1) Cruth


Cad é an cruth atá ar bhogha ceatha?



2) Trastomhas

Cad é trastomhas an chiorcail a tharraing tú chun an rothlán tuar ceatha a dhéanamh?

(Is féidir rialóir a usáid. An gá duit a fháil amach c á bhfuil lár an chiorcail?)



3) Ga

Cad é ga do chiorcail?

(Is féidir leat tomhas ó lár go himeall an chiorcail nó is féidir leat an trastomhas a roinnt ar 2)



4) Imlíne agus Stua

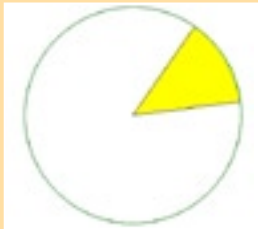
(a) Cad é imlíne chiorcail?

(Is é seo an t-achar timpeall a imill. Is féidir é a thomhas le píosa téide agus an téad a chur le rialóir)

ROTHLÓIR TUAR CEATHA

5) Achar

- (a) Cad é achar an chiorcail? (Is féidir é seo a dhéanamh ar pháipéar cearnóige)
- (b) Cad é achar na cod buí den rothlóir (i.e. teascóg amháin)?
(Is féidir leat é seo a dhéanamh le pháipéar cearnóige, nó trí úsáid a bhaint as do fhreaga ó (a))



6) Imlíne agus Achar – an bhfuil Ceangal eatarthu?

Déan cairt mar seo agus déan taifead de thomhais ó rothlóga difriúla:

Trastomhas	Imlíne	Tá an imlíne cé mhéad uair chomh mór leis na trastomhas?

An dtugann tú aon rud faoi deara?

(Bionn imlíne chiorcail ar bith beagán níos mó ná 3 oiread chomh mór le trastomhas. 3.14 uaire an trastomhas atá ann. Tugtar π ('pi') ar an uimhir seo. Is litir í ó aibitír tíre san Eoraip. An eol duit cén tír. (An Ghréig)

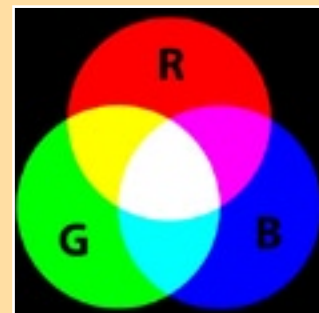
7) Uilinneacha

Is iad Dearg, Glas agus Gorm na bundathanna

Tóg píosa nua de chartchlár ciorclach, agus le huilinntomha, roinn é i dtrí theascán (cad é méi agus cineál an uilinn – Géar? Maol? Dronuille?)

Dathaigh anois iad – dearg, glas agus gorm – agus cas iad mar a rinne tú cheana? Cad a fheiceann tú.

Cad is brí le 'bundathanna' a thabhairt ar na dathanna seo, dar leat?
(Nuair a chuirtear le chéile iad déanann siad solas bán)



8) Tomhas Datha

Má tá na corruimhreacha go léir dearg agus na réidhuimhreacha go léir glas, cén dath atá ar: corruimhir + réidhuimhir?
(Freagra: dearg)

CORR	RÉIDH
1	0
3	2
5	4
7	6
9	8